

PEGAR AQUÍ LA ETIQUETA IDENTIFICATIVA

JUNTA DE EXTREMADURA
TURNO LIBRE Y DISCAPACIDAD
ORDEN DE 16 DE DICIEMBRE DE 2021
(D.O.E. Nº 243, DE 21 DE DICIEMBRE DE 2021)

SEGUNDO EJERCICIO

GRUPO V CATEGORIA/ESPECIALIDAD: ORDENANZA

Este ejercicio consta de 5 supuestos con la siguiente puntuación:

- Supuesto 1º.- 2,50 puntos
- Supuesto 2º.- 3,00 puntos
- Supuesto 3º.- 1,00 punto
- Supuesto 4º.- 1,50 puntos
- Supuesto 5º.- 2,00 puntos

Duración del ejercicio: 70 minutos

Mérida, 20 de abril de 2023

SUPUESTO Nº 1 (2,5 puntos el SUPUESTO)

1ª PARTE (1,25 puntos)

Relacione cada uno de los Organismo /Unidades que figuran en la siguiente tabla con la Dirección General o Secretaría a la que se encuentran adscritos, para ello indique el número que corresponda de los que aparecen en la relación que se acompaña: (0,125 puntos cada respuesta correcta)

OBSERVATORIO EXTREMEÑO DEL CAMBIO CLIMÁTICO	11
ARCHIVO GENERAL DE EXTREMADURA	9
REGISTRO DE LA PROPIEDAD INTELECTUAL DE EXTREMADURA	6
ACADEMIA DE SEGURIDAD PUBLICA DE EXTREMADURA	8
CENTRO EXTREMEÑO DE SEGURIDAD Y SALUD LABORAL DE BADAJOZ	5
INSTITUTO DE ESTADÍSTICA DE EXTREMADURA	10
CENTRO DE INVESTIGACIONES CIENTIFICAS Y TECNOLÓGICAS DE EXTREMADURA	3
ESCUELA DE ADMINISTRACIÓN PUBLICA	2
CENTRO DE URGENCIAS Y EMERGENCIAS 112 DE EXTREMADURA	8
INSTITUTO EXTREMEÑO DE LAS CUALIFICACIONES Y ACREDITACIONES	14

DIRECCION GENERAL DE TRIBUTOS	1
DIRECCION GENERAL DE FUNCION PUBLICA	2
SECRETARIA GENERAL DE CIENCIA, TECNOLOGÍA, INNOVACIÓN Y UNIVERSIDAD	3
ABOGACIA GENERAL DE LA JUNTA DE EXTREMADURA	4
DIRECCION GENERAL DE TRABAJO	5
SECRETARIA GENERAL DE CULTURA	6
DIRECCIÓN GENERAL DE ACCESIBILIDAD Y CENTROS	7
DIRECCIÓN GENERAL DE EMERGENCIAS, PROTECCIÓN CIVIL E INTERIOR	8
DIRECCIÓN GENERAL DE BIBLIOTECAS, ARCHIVOS Y PATRIMONIO CULTURAL	9
SECRETARÍA GENERAL DE ECONOMIA Y COMERCIO	10
DIRECCIÓN GENERAL DE SOSTENIBILIDAD	11
DIRECCIÓN GENERAL DE INNOVACIÓN E INCLUSIÓN EDUCATIVA	12
DIRECCIÓN GENERAL DE INGRESOS	13
DIRECCION GENERAL DE FORMACIÓN PROFESIONAL Y FORMACIÓN PARA EL EMPLEO	14
DIRECCION GENERAL DE PERSONAL DOCENTE	15

2ª PARTE (1,25 puntos)

Indica con una X la localidad en la que se encuentran cada uno de los Centros/Organismos de la Junta de Extremadura que se relacionan a continuación, teniendo en cuenta que sólo hay una opción correcta. : (0,125 puntos cada respuesta correcta)

OFICINA DE ATENCIÓN AL PÚBLICO EN MATERIA DE VIVIENDA

MONTIJO TRUJILLO AZUAGA FUENTE DE CANTOS

CENTRO DE ORIENTACIÓN FAMILIAR

GUAREÑA CASTUERA OLIVENZA MONESTERIO

CENTRO DE DROGODEPENDENCIAS EXTREMEÑOS (CEDEX)

OLIVENZA MONTIJO CHELES AZUAGA

OFICINA DE INFORMACIÓN TURÍSTICA DE LA JUNTA DE EXTREMADURA

MÉRIDA BADAJOZ PLASENCIA TRUJILLO

CENTRO DE EMPLEO DEL SEXPE

MONESTERIO FERIA JARANDILLA DE LA VERA TALARRUBIAS

FACTORIA JOVEN

CÁCERES TRUJILLO DON BENITO PLASENCIA

CENTRO DE PROFESORES Y RECURSOS (C.P.R.)

LLERENA CAMINOMORISCO LOGROSÁN ALCONCHEL

CENTRO DE FORMACIÓN DEL MEDIO RURAL

DON BENITO BADAJOZ MERIDA CÁCERES

ESCUELA OFICIAL DE IDIOMAS

NAVALMORAL DE LA MATA LLERENA AZUAGA CORIA

PUNTO DE ACTIVACION EMPRESARIAL

ALMENDRALEJO TRUJILLO PLASENCIA ZAFRA

SUPUESTO 2 (3 puntos el SUPUESTO)

1ª PARTE (1 punto)

Indique el porcentaje correspondiente de reducción o ampliación, de entre los que se indican a continuación (0,2 puntos cada respuesta)









PORCENTAJES:

- 20%
- 50%
- 35%
- 66%
- 400 %
- 141%
- 120%
- 71%

TAMAÑO			PORCENTAJE
A5	➡	A1	400%
A3	➡	A4	71%
A5	➡	A4	141%
A4	➡	A6	50%
A3	➡	A6	35%

2ª PARTE (1 punto)

Añada el número correspondiente al significado de cada uno de los siguientes indicadores de una fotocopiadora, de entre los que aparecen en la relación. (0,125 puntos cada respuesta)

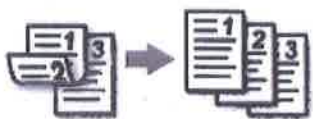
	3
	5
	1
	8
	7
	4
	6
	9

SIGNIFICADO	
Atasco de papel	1
Bandeja papel llena	2
Llamar servicio tecnico	3
Tapa abierta	4
Toner vacio	5
Bandeja de papel vacia	6
Atasco original	7
Grapas agotadas	8
Toner residual lleno	9
Grapas atascadas	10


3ª PARTE (1 punto)

De los cinco métodos de impresión dados a continuación, ponga debajo de cada dibujo el número que corresponda. (0,2 puntos cada respuesta)

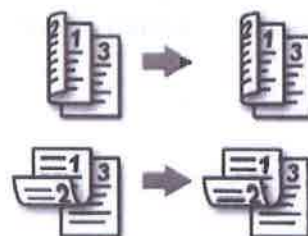
ORIGINAL A UNA CARA. COPIAS A DOS CARAS CON ENCUADERNACION POR EL LADO CORTO	<u>1</u>
ORIGINAL A DOS CARAS CON ENCUADERNACION POR EL LADO LARGO. COPIAS A UNA CARA	<u>2</u>
ORIGINAL A UNA CARA. COPIAS A DOS CARAS CON ENCUADERNACION POR EL LADO LARGO	<u>3</u>
ORIGINAL A DOS CARAS CON ENCUADERNACION POR EL LADO CORTO. COPIAS A UNA CARA	<u>4</u>
ORIGINAL A DOS CARAS. COPIAS A DOS CARAS CON ENCUADERNACION POR EL LADO LARGO O POR EL LADO CORTO	<u>5</u>



Nº 4



Nº 2



Nº 5



Nº 1



Nº 3

SUPUESTO 3 (1 punto el SUPUESTO)

Una instalación de aire acondicionado consta de varios elementos. Indica, con el número que corresponda de los que aparecen en la relación, a cuál de ellos nos referimos según sus características. (0,2 puntos cada respuesta)

Mecanismo sensible al calor, que mide la temperatura en un lugar determinado.	2
Mecanismo sensible a la humedad relativa y capaz de medirla.	5
Medidor de presión.	6
Conjunto de tuberías y conductos, que hacen circular el aire o el agua.	3
Elementos que reciben el aire o el agua y lo distribuyen al ambiente.	7

1	EQUIPO DE PRODUCCIÓN DE FRIO.	5	HUMIDOSTATO.
2	TERMOSTATO.	6	PRESOSTATO.
3	EQUIPO DE DISTRIBUCIÓN.	7	UNIDADES TERMINALES.
4	VENTILADOR.	8	FILTRO.

SUPUESTO 4 (1,5 puntos el SUPUESTO)

Complete la siguiente tabla indicando si son **VERDADEROS** o **FALSOS** (V o F) cada uno de los supuestos referidos a las medidas de prevención, para evitar accidentes laborales: (0,15 puntos cada respuesta)

En fuegos verticales la extinción debe iniciarse por las zonas más altas.	F
Para evitar resbalones y caídas se deben utilizar zapatos con suelas lisas o sin dibujos.	F
No manipular la instalación eléctrica si se carece de la capacitación y autorización correspondiente.	V
Los extintores, bocas de incendios o pulsadores de alarma no deben estar accesibles, para evitar el mal uso de personas ajenas al centro de trabajo.	F
Los objetos colocados en las baldas de las estanterías deben sobresalir, para que se pueda apreciar de que objeto se trata.	F
Para coger o depositar objetos a los que no alcances, nunca trepar por las baldas de las estanterías o armarios.	V
En caso de evacuación por incendio, utilizar siempre los ascensores para aminorar el tiempo de actuación.	F
Si el incendio es como consecuencia de la energía eléctrica, se debe procurar cortar la tensión en la zona afectada y utilizar los extintores de CO2.	V
Básicamente existen dos tipos de BIE. Las de manguera flexible de 25mm. y los de manguera rígida de 45 mm.	F
Al estar subido a una escalera, hay que sujetarse a ella y mantener siempre el cuerpo dentro de los largueros.	V

SUPUESTO 5 (2 puntos el SUPUESTO)

1ª PARTE (1 punto)

Conforme a la actual legislación en materia de señalización de seguridad y salud en el trabajo, identifique al lado de cada señal el número correspondiente a su significado de entre todos los que se proponen en la relación adjunta: (0,125 puntos cada respuesta)



6



14



10



11



3



8



4



15

1. Puesto de socorro.
2. Prohibido accionar.
3. Camilla.
4. Primeros auxilios.
5. Uso obligatorio de bata para protección.
6. Materias tóxicas.
7. Vallas de señalización.
8. Comienzo: Atención. Toma de mando.
9. Obstáculos.
10. Protección obligatoria del cuerpo.
11. Escalera de mano.
12. Alto: Interrupción. Fin del movimiento.
13. Materias radioactivas.
14. No tocar.
15. Radiaciones no ionizantes

2ª PARTE (1 punto)

En el siguiente cuadro donde se figura los colores de seguridad, complete el significado y las indicaciones sobre el uso de cada uno de ellos, reflejando el numero correspondiente en cada casilla. (0,125 puntos cada respuesta)

COLOR	SIGNIFICADO	INDICACIONES
ROJO	3	2
AMARILLO	4	1
AZUL	2	4
VERDE	1	3

SIGNIFICADO	
1	INFORMACION DE EMERGENCIA
2	OBLIGACIÓN E INDICACIONES
3	PROHIBICION, MATERIAL DE PREVENCIÓN Y LUCHA CONTRA INCENDIOS
4	ADVERTENCIA

INDICACIONES DE USO	
1	SEÑALIZACION DE ATENCIÓN, PRECAUCIÓN. VERIFICACIÓN
2	SEÑALIZACION DE PARADA
3	SEÑALIZACIÓN DE PUESTOS DE SOCORRO, PASILLOS, LOCALES.
4	SEÑALIZACION DE OBLIGACIÓN DE USAR PROTECCIÓN PERSONAL